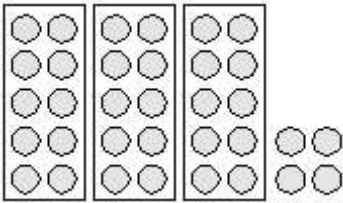
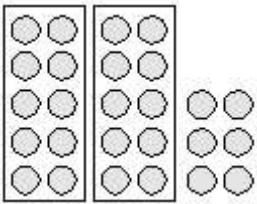


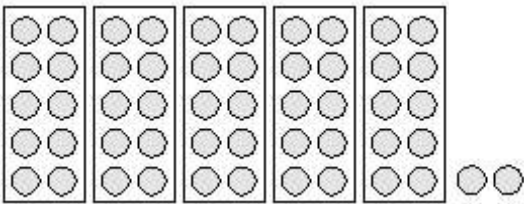
Hoeveel?



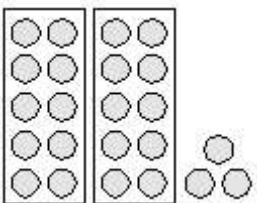
3 tientallen en 4 eenheden = 34



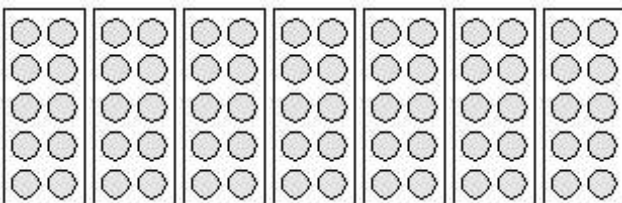
__ tientallen en __ eenheden = __



__ tientallen en __ eenheden = __



__ tientallen en __ eenheden = __



__ tientallen en __ eenheden = __